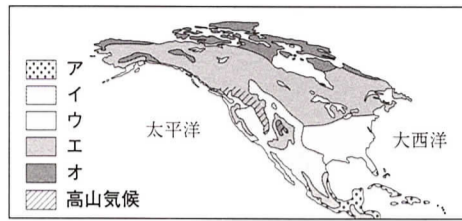


1 右の地図中のア～オは気候を表している。あてはまるものをつぎの①～⑤から選び、番号で答えよ。

- ① 冷帯気候
- ② 寒帯気候
- ③ 乾燥帯気候
- ④ 熱帯気候
- ⑤ 温帯気候



1 【各3 — 15点】

ア		イ	
ウ		エ	
オ			

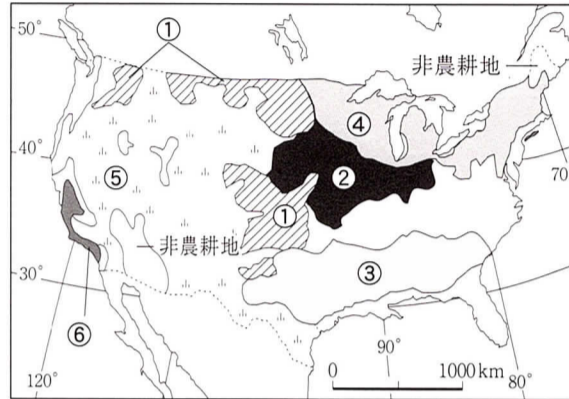
2 アメリカ合衆国の農牧業について、右の地図を見て、つぎの問いに答えよ。

(1) 右の地図の①～⑥にあてはまるものを、つぎのア～カから選び、記号で答えよ。

- ア 小麦地帯 イ 酪農地帯
- ウ 放牧地帯 エ とうもろこし地帯
- オ 綿花地帯 カ 地中海農業地帯

(2) アメリカの農牧業の特色をのべたつぎの文の()にあてはまる語句を答えよ。

- a 大規模経営が多く、(ア)化されている。
- b 自然条件に合わせた(イ)型の農業が徹底されている。
- c 輸出する目的で作る(ウ)作物の栽培が中心である。

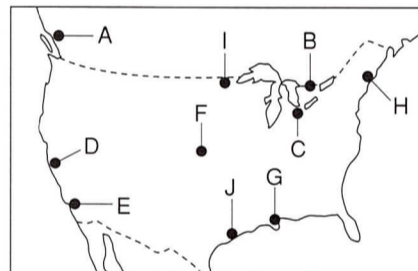


2 【各4 — 36点】

(1)	①		②	
	③		④	
	⑤		⑥	
(2)	ア			
	イ			
	ウ			

3 右の地図を見て、つぎの問いに答えよ。

- (1) メサビ鉄山の位置は、地図中のどれか。
- (2) Cの都市でさかんな工業名と、その都市名を答えよ。
- (3) 電子工業のさかんなシリコンバレーの位置を答えよ。
- (4) 石油化学工業のさかんなJの都市名を答えよ。
- (5) ニューイングランド地方は織物工業と精密機械工業で有名だが、その位置を記号で答えよ。
- (6) カナダの工業都市トロントは、地図中のどれか。



3 【各2 — 14点】

(1)		
(2)	工業名	都市名
(3)		
(4)		
(5)		
(6)		

4 つぎの各文の()にあてはまる語句を答えよ。

- (1) アメリカは1776年、13の州で(ア)から独立を果たした。
- (2) アメリカは、多くの民族から成り立っているが、アフリカ系アメリカ人(黒人)のほとんどは、かつて(イ)としてアフリカからつれてこられた人々の子孫である。
- (3) アメリカにメキシコなどから移住してきたスペイン語系の人たちのことを(ウ)とよぶ。
- (4) 北アメリカの先住民は、北極海沿岸に住む(エ)や、大陸に到達した人々がそこをインドとまちがえたために今も(オ)とよばれている人々である。
- (5) アメリカの工業は、大西洋沿岸や五大湖周辺で発達したが、近年は、カリフォルニア州や南部のテキサス州など、(カ)とよばれる地域での発展がいちじるしい。
- (6) アメリカの穀物輸出は、巨大な少数の穀物商社によって行われている。(キ)川の河口には、これらの商社の大規模な穀物倉庫が並び、大集散地となっている。
- (7) 国際連合の本部のあるニューヨークは、(ク)街のある世界経済の中心地でもある。
- (8) 日本はアメリカとの間で自動車やICなどの輸出入をめぐって(ケ)を生じている。

4 【各3 — 27点】

ア
イ
ウ
エ
オ
カ
キ
ク
ケ

5 つぎの各文はどここの国の説明か。それぞれ答えよ。

- (1) 南アメリカの太平洋に面する国。南北に極めて細長く、東部はけわしいアンデス山脈がちなっている。
- (2) 南アメリカで、最も面積の大きい国。アルゼンチンとともに日本のほぼ裏側にあたる遠い国だが、古くからの日系移民も多く生活している。
- (3) 南アメリカの太平洋に面する国。高地に住むインディオの人たちは、布の中央に穴のあいたポンチョという衣服をかぶっている。インカ帝国の遺跡マチュピチュがあり、世界遺産に指定されている。
- (4) 中央アメリカにあり、アメリカ合衆国と国境を接する国で、首都は標高2000mを超える高地にある。古くはアステカ文明が栄え、とうもろこしの原産地としても知られる。

5 【各2 — 8点】

(1)
(2)
(3)
(4)